

# ВСЕРОССИЙСКАЯ ОЛИМПИАДА ШКОЛЬНИКОВ

ГЕОГРАФИЯ. 2022–2023 уч. г.

ШКОЛЬНЫЙ ЭТАП. 8 КЛАСС

**Максимальная оценка за работу – 100 баллов.**

## Задание 1

Определите название крупнейшей реки, протекающей по территории третьего по площади полуострова мира, через территории 6-ти стран мира, и местами являющейся естественной границей между некоторыми из них. Укажите названия стран, определив их по описаниям, и ответьте на дополнительные вопросы о них. Ответы запишите в именительном падеже словом (словосочетанием) или числом.

**Внимание!** Ответы с орфографическими ошибками не засчитываются.

**Страна № 1.** На границе этой страны находится самая высокая в мире гора, а исток реки, которая здесь носит имя Дза-Чу, расположен в пределах самого высокого нагорья на планете.

**Определите**

- название страны
- высоту самой высокой горы
- название нагорья

**Страна № 2.** Страна омывается водами двух океанов. Залив, расположенный у её берегов, носит имя древнего названия страны. Древним названием этой страны также названа порода кошки. Здесь река является государственной границей со страной № 5. На юге страна граничит с государством, в котором расположен мыс – крайняя южная точка материка.

**Определите**

- название страны
- древнее название страны
- название мыса

**Страна № 3.** В недавнем прошлом эта страна носила другое название, а столицей был крупнейший город страны. Река протекает по государственной границе со страной № 5. Как и в большинстве стран бассейна реки в этой стране исповедуют самую древнюю мировую религию.

**Определите**

- название страны
- название крупнейшего города
- древнюю мировую религию

**Страна №4.** На флаге страны изображён объект Всемирного культурного наследия ЮНЕСКО – храмовый комплекс, затерянный в джунглях. Столица королевства располагается в месте впадения в рассматриваемую реку правого притока, который носит название крупнейшего озера полуострова.

**Определите**

- название страны
- название храмового комплекса
- название крупнейшего озера полуострова

**Страна №5.** Единственная внутриконтинентальная страна полуострова, здесь река образует каскад водопадов, признанных самыми широкими водопадами в мире.

**Определите**

- название страны
- название полуострова
- название каскада водопадов

**Страна №6.** В этой стране реку называют «Рекой девяти драконов», здесь находится её устье, вид которого назван по букве греческого алфавита. К северу от устья расположен крупнейший по численности населения город страны, в прошлом носивший название Сайгон.

**Определите**

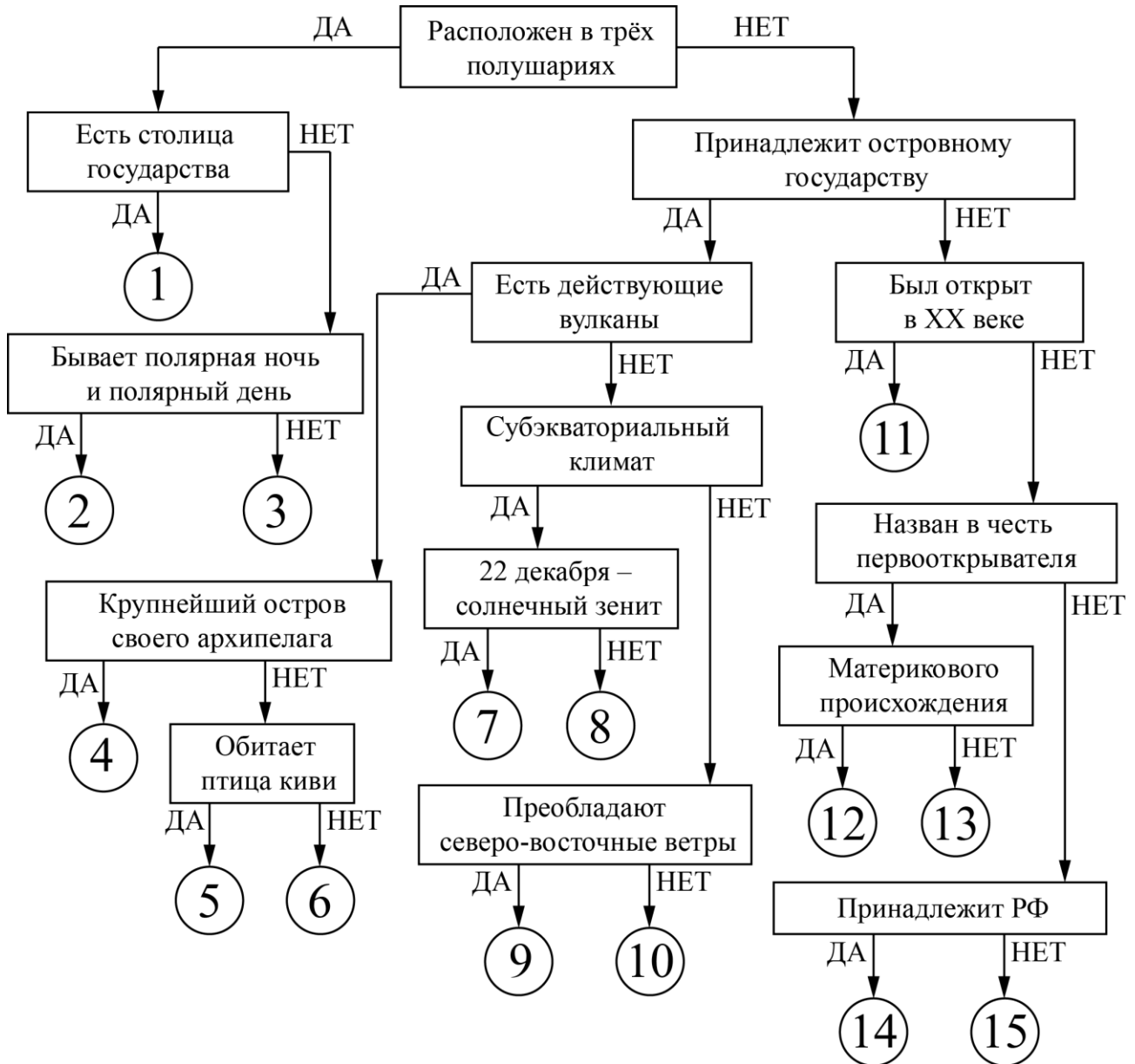
- название страны
- название вида устья
- современное название крупнейшего города

Напишите название реки, протекающей через территории 6-ти стран мира, определённых Вами.

## Задание 2

Следуя алгоритму, распределите острова.

### Острова



Под названием каждого острова запишите номер соответствующей позиции на схеме.

Хонсю	Тасмания
Крузенштерна	Ирландия
Врангеля	Беринга
Минданао	Мадагаскар
Северный (Новая Зеландия)	Ратманова
Куба	Суматра
Великобритания	Шри-Ланка
Октябрьской Революции	

### Задание 3


Определите по фотографиям понятия и объекты, относящиеся к территории страны-соседки России. Дайте названия фотографиям, определив то, что они изображают, и к каждой подберите соответствующий комментарий (1–6). Ответьте на вопрос в конце задания. Ответы (термины и географические названия) запишите в именительном падеже словом или словосочетанием.


**Внимание!** Ответы с орфографическими ошибками не засчитываются.


#### Комментарии к фотографиям


1. Географический объект, расположенный в котловине, являющейся трансграничным объектом Всемирного природного наследия ЮНЕСКО.
2. Переносное каркасное жилище с войлочным покрытием у кочевых народов.
3. Горная система на территории 3-х стран Азии, высшая точка которой расположена в нашей стране.
4. Одна из крупнейших аридных территорий мира, «палеонтологический музей» под открытым небом.
5. Тип климата умеренного климатического пояса.
6. Безлесная природная зона с преобладанием травянистой растительности.


Всероссийская олимпиада школьников. География. 2022–2023 уч. г.  
Школьный этап. 8 класс

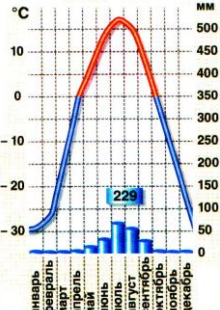
	Термин	Номер комментария

	Термин	Номер комментария

	Географическое название	Номер комментария

	Географическое название	Номер комментария

	Географическое название	Номер комментария

	Термин	Номер комментария

Как называется страна, которой посвящены все фотографии?

## Задание 4

### Пример

Опираясь на знания по географии, определите, какой из пяти географических объектов лишний.

Россия – США – Франция – **Берлин** – Испания.

Из предложенных вариантов выберите верное обоснование своего ответа (верно определён общий признак для четырёх объектов в логическом ряду и найдено правильное обоснование для ошибочного элемента).

- Эта страна – королевство, все остальные государства – республики.
- Это крупнейшая по площади страна мира, а все остальные имеют меньшую площадь.\*
- Эта страна находится на полуострове, а все остальные объекты – нет.\*\*
- Этот объект омывается водами трёх океанов, а все остальные – одного.
- **Это город, а все остальные объекты – названия государств.**

**Правильный ответ:**

**Берлин – это город, а все остальные объекты – названия государств.**

Ответ считается верным, если определён общий признак для четырёх объектов, найден лишний элемент и дано обоснование исключения.

\* Количественные значения не могут являться общим признаком, если они не переходят в качественные.

\*\*Отсутствие какого-то свойства не может являться объединяющим признаком.

**1.** Опираясь на знания по географии, определите, какой из пяти географических объектов лишний.

Амазонка – Хуанхэ – Дунай – Муррей – Замбези.

Из предложенных вариантов выберите верное обоснование своего ответа (верно определён общий признак для четырёх объектов в логическом ряду и найдено правильное обоснование для ошибочного элемента).

- Это самые длинные реки в своих частях света, а выбранная таковой не является.
- Все реки относятся к бассейну стока Атлантического океана, а эта – к бассейну стока Индийского океана.
- Эта река находится в умеренном климатическом поясе, а все остальные – в тропическом.
- На этой реке нет ни одной столицы страны, в отличие от других, на берегах которых есть столицы.
- Эта река течёт с востока на запад, а все остальные – с запада на восток.

2. Опираясь на знания по географии, определите, какой из пяти географических объектов лишний.

Занзибар – Шри-Ланка – Сицилия – Ньюфаундленд – Суматра.

Из предложенных вариантов выберите верное обоснование своего ответа (верно определён общий признак для четырёх объектов в логическом ряду и найдено правильное обоснование для ошибочного элемента).

- Это остров, находящийся в Индийском океане, все остальные острова расположены в Атлантическом океане.
- Этот остров относится к Европе, а все остальные – это азиатские острова.
- Только на этом острове отсутствует активный вулканизм, на всех остальных островах расположены действующие вулканы.
- Это островное государство, название которого совпадает с названием острова, а все остальные острова являются частью других государств.
- Этот остров расположен у восточного побережья материка, а все остальные – у южного побережья.

3. Опираясь на знания по географии, определите, какой из пяти географических объектов лишний.

Мадрид – Кейптаун – Перт – Сантьяго – Сидней.

Из предложенных вариантов выберите верное обоснование своего ответа (верно определён общий признак для четырёх объектов в логическом ряду и найдено правильное обоснование для ошибочного элемента).

- Этот город находится в бассейне Тихого океана, а все остальные – в бассейне Индийского океана.
- Этот город расположен в природной зоне влажных экваториальных лесов, а остальные – в зоне жестколистных лесов и кустарников.
- Этот город не является столицей государства, а остальные являются.
- Для этого города характерно равномерное распределение атмосферных осадков по сезонам года, а для других городов – максимум атмосферных осадков приходится на зиму.
- Здесь преобладают каштановые почвы, а на других территориях – красно-жёлтые ферраллитные.

4. Опираясь на знания по географии, определите, какой из пяти географических объектов лишний.

Капские – Альпы – Апеннины – Гималаи – Карпаты.

Из предложенных вариантов выберите верное обоснование своего ответа (верно определён общий признак для четырёх объектов в логическом ряду и найдено правильное обоснование для ошибочного элемента).

- Эти горы находятся в Америке, а все остальные – в Евразии.
- Эти горы являются водоразделом между бассейнами Атлантического и Северного Ледовитого океанов, а по территории других объектов такой водораздел не проходит.
- Эти горы образовались в герцинскую складчатость, а все остальные – в кайнозойскую.
- В этих горах располагаются высочайшие вершины материков, кроме выбранного объекта.
- На вершинах этой горной страны отсутствуют ледники, в то время как вершины других гор покрыты ледниками.

5. Опираясь на знания по географии, определите, какой из пяти географических объектов лишний.

Китай – Монголия – Белоруссия – Литва – Латвия.

Из предложенных вариантов выберите верное обоснование своего ответа (верно определён общий признак для четырёх объектов в логическом ряду и найдено правильное обоснование для ошибочного элемента).

- Эта страна не имеет общей границы с Россией, как другие государства.
- Все страны имеют с Россией только сухопутную границу, а выбранная – ещё и морскую.
- Эта страна не является членом ОДКБ, в то время как другие являются.
- Эта страна имеет наименьшую длину сухопутной границы с Россией, у всех остальных она существенно больше.
- Эта страна не входила в состав СССР, как другие государства из списка.